

Nama : \_\_\_\_\_

### UH TEMA 4 SUBTEMA 1

- Sikap yang bijaksana terhadap air yaitu . . .
  - Nisa minum 3 gelas sehari karena untuk menghemat air
  - Pak lukman menyiram tanaman dengan bekas air cucian beras
  - Toni menyalakan air kran selama menggosok gigi
  - Yuda tidak segera menutup kran air padahal bak mandi sudah terisi penuh
- Perilaku yang benar untuk menjaga lingkungan adalah . . .
  - Ruslan membuang sampah di pinggir jalan
  - Alan sengaja membiarkan bak mandi terbuka hingga meluber
  - Yeni mencabuti rumput yang ada di halaman rumah
  - Sausan menimbun sampah daun di dalam tanah
- Menjaga kebersihan air adalah rasa wujud syukur kita terhadap . . .
  - Alloh SWT
  - Masyarakat
  - Keluarga
  - Tetangga
- Usaha kita untuk menghemat air yaitu salah satunya menggunakan air sesuai dengan . . .
  - Takarannya
  - Kadarnya
  - Tempatnya
  - Kebutuhannya
- Perilaku manusia yang menyebabkan bencana adalah . . .
  - Penghijauan
  - Membakar hutan untuk membuka lahan
  - Melakukan tebang pilih
  - Reboisasi
- Hasil dari suatu pembicaraan atau tulisan disebut . . .
  - Ringkasan
  - Tema
  - Premis
  - Kesimpulan
- Pada era *global* saat ini orang-orang sangat tunduk dengan gadget, sehingga menjadikan mereka lalai akan kewajiban kepada Tuhan bahkan kepada sesama manusia. Kata baku yang tepat untuk memperbaiki kalimat tersebut adalah . . .
  - Globhal
  - Global
  - Gelobe
  - Globe

#### **Bacalah Uraian berikut untuk soal no 8-10!**

Tanah longsor merupakan pergerakan tanah dan bebatuan pada lereng gunung atau bukit. Tanah di lereng gunung dapat longsor karena adanya peningkatan kandungan air di perut gunung atau bukit. Penyebab lainnya adalah pembangunan pemukiman di lereng gunung dan pemotongan pohon secara *illegal*. Kegiatan tersebut menyebabkan lereng tidak memiliki penahan atau penyangga seiring dengan meningkatnya curah hujan yang terjadi baru-baru ini.

- Kesimpulan dari paragraf di atas adalah . . .
  - Penyebab tanah longsor
  - Akibat tanah longsor
  - Tujuan tanah longsor
  - Manfaat tanah longsor
- Kata *illegal* dari paragraf di atas adalah . . .
  - Sesuai aturan
  - Menebang tanpa pilih
  - Tebangan bertanggung jawab
  - Menebang pilih-pilih
- Judul yang tepat untuk bacaan di atas adalah . . .
  - Tanah longsor
  - Bencana tanah longsor
  - Pergerakan tanah dan bukit
  - Curah hujan yang meningkat

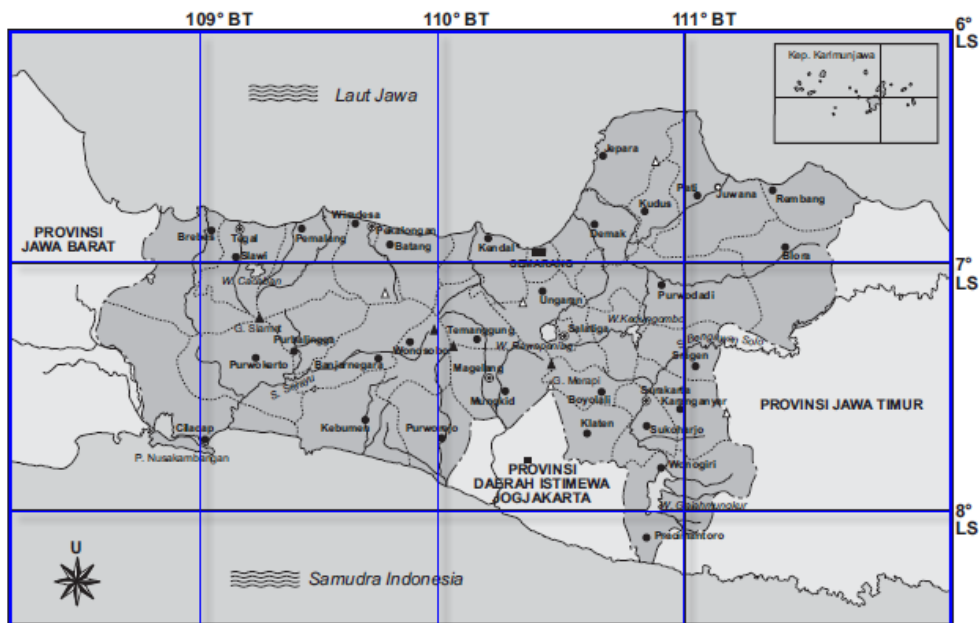
#### **Bacalah uraian berikut untuk soal nomor 11-12.**

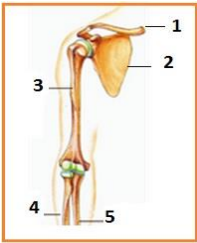
Rumah Rafli berada 30 meter di sebelah utara rumah Reno. Rumah Rafli berada di sebelah barat rumah Zain. Rumah Abi 30 meter disebelah selatan rumah Zain.

- Letak rumah Reno dari rumah Abi adalah ....
  - 30 meter di arah barat
  - 30 meter di arah timur
  - 40 meter di arah barat
  - 40 meter di arah timur
- Letak rumah Abi dari rumah rafli adalah ....
  - 40 meter ke timur lalu 30 meter ke selatan
  - 40 meter ke timur lalu 30 meter utara

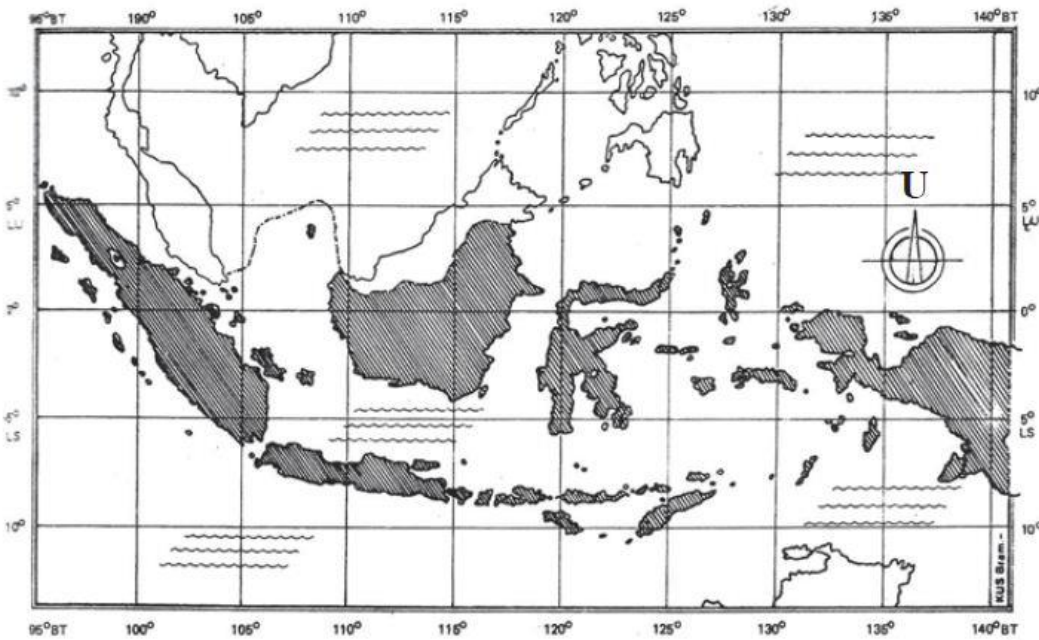
b. 40 meter ke selatan lalu 30 meter ke timur      d. 40 meter ke selatan lalu 30 meter ke barat

**Perhatikan peta di bawah ini untuk soal 13-14.**



13. Provinsi Daerah Istimewa Yogyakarta terletak pada garis astronomis ....
  - a.  $110^{\circ}$  BT dan  $7^{\circ}$  LS
  - b.  $110^{\circ}$  BT dan  $8^{\circ}$  LS
  - c.  $111^{\circ}$  BT dan  $7^{\circ}$  LS
  - d.  $111^{\circ}$  BT dan  $8^{\circ}$  LS
14. Kota yang terletak pada garis astronomis  $109^{\circ}$  BT dan  $7^{\circ}$  LS adalah ....
  - a. Brebes, Tegal, Purworejo, Banjarnegara
  - b. Pekalongan, Kendal, Semarang, Blora
  - c. Brebes, Tegal, Pemalang dan Pekalongan
  - d. Pekalongan, Magelang, Rembang, Temanggung
15. Garis horizontal yang terdapat pada peta dan berpedoman pada garis khatulistiwa disebut ....
  - a. Garis astronomis
  - b. garis bujur
  - c. garis khayal
  - d. garis lintang
16. Yang bukan merupakan fungsi rangka, adalah ....
  - a. Membentuk tubuh
  - b. Tempat melekatnya otot
  - c. melemaskan otot
  - d. melindungi bagian tubuh yang penting
17. Kumpulan tulang-tulang yang menyusun tubuh manusia disebut ....
  - a. Rangka
  - b. sendi
  - c. tengkorak
  - d. otot
18.  Tulang yang ditunjuk oleh nomor 2 adalah ....
  - a. Tulang lengan atas
  - b. Tulang selangka
  - c. Tulang belikat
  - d. Tulang hasta
19. Penyakit atau gangguan yang sering muncul pada rangka dan menyebabkan rasa nyeri pada persendian terutama dipergelangan tangan, kaki, siku dan lutut disebut ....
  - a. Rakhitis
  - b. Osteoporosis
  - c. Skoliosis
  - d. Rematik
20. Berikut yang tidak termasuk manfaat air bagi tubuh adalah ....
  - a. Pembentuk sel dan cairan tubuh
  - b. Kebutuhan mencuci
  - c. pelumas dan bantalan
  - d. media transportasi
21. Daerah yang terletak pada ketinggian antara 50 – 600 mdpl disebut ....
  - a. Daerah pantai
  - b. dataran rendah
  - c. dataran tinggi
  - d. pegunungan
22. Penduduk yang mengembangkan perkebunan apel biasanya tinggal di daerah ....
  - a. Pantai
  - b. pesisir
  - c. dataran rendah
  - d. dataran tinggi
23. Budidaya kerang mutiara dilakukan di daerah ....
  - a. Pantai
  - b. danau
  - c. dataran rendah
  - d. dataran tinggi
24. Pekerjaan yang cocok dilakukan di daerah dataran tinggi adalah ....
  - a. Petani rumput laut
  - b. petani kelapa sawit
  - c. petani garam
  - d. petani karet
25. Cara menjaga lingkungan berbeda di setiap daerah. Lingkungan perbukitan yang rawan terkena longsor dapat di jaga dengan cara ....

- a. Memberi pagar di sekeliling bukit  
b. Melakukan reboisasi  
c. membangun pondasi yang kuat  
d. tidak membuang sampah sembarangan
26. Tari kecak berasal dari daerah . . .  
a. Bali  
b. Sunda  
c. Batak  
d. Jawa
27. Berikut ini yang tidak dapat digunakan untuk properti tari adalah . . .  
a. Gelas  
b. Selendang  
c. Kipas  
d. Piring
28. Properti yang digunakan pada tari topeng kelana adalah . . .  
a. Gendawa  
b. Topeng  
c. Pedang  
d. Lilin
29. Nama tarian yang diambil dari property tari tersebut adalah . . .  
a. Tari saman  
b. Tari remo  
c. Tari gambyong  
d. Tari piring
30. Fungsi irama dalam tarian adalah . . .  
a. Sebagai tema  
b. Sebagai iringan  
c. Sebagai pengatur tempo  
d. Sebagai pembagus tari
31. Sebutkan 3 kewajiban manusia terhadap air di Bumi!  
32. Buatlah kesimpulan tentang cerita 'Malin Kundang'!  
33. Jelaskan letak geografis wilayah Indonesia!



34. Sebutkan 3 penyakit atau gangguan yang sering muncul pada rangka beserta penjelasannya!  
35. Tuliskan satu gejala alam yang dapat terjadi di dataran tinggi, beserta penyebab, akibat, dan cara pencegahannya!  
36. Apakah yang dimaksud dengan Properti tari? Sebutkan 3 properti tari!