

Nama : _____

UH TEMA 6 SUBTEMA 3

- Usaha yang dilakukan oleh manusia dalam memenuhi kebutuhan adalah
 - Acuh tak acuh
 - Bermalas-malasan
 - pamer kekayaan
 - kreatif mencari keuntungan
- Sebagai makhluk ekonomi dan makhluk sosial yang bermoral maka manusia selayaknya
 - Melindungi para pencuri dari tindakan main hakim sendiri dan menyerahkan pada polisi
 - Memastikan bahwa penggunaan dana dari pemerintah berlangsung lancar
 - Memperbaiki jalan, tempat ibadah serta sarana umum lainnya secara sukarela
 - Menghemat penggunaan sumber daya alam dan tidak memboroskannya demi kepentingan pribadi
- Dalam memenuhi kebutuhan hidup, terdapat dua faktor yang mempengaruhinya, yaitu faktor internal dan faktor eksternal. Yang merupakan faktor eksternal adalah
 - Pendapatan
 - selera
 - adat istiadat
 - sikap dan gaya hidup
- Sikap menerima dengan tulus hati akan sesuatu disebut
 - Sabar
 - Ikhlas
 - Disiplin
 - Bekerja keras
- Perhatikan pernyataan berikut ini!
 - Dapat dipercaya oleh orang lain
 - Pekerjaan selesai tepat waktu
 - Hidup menjadi teratur
 - Menyenangkan hati orang lain
 - Pekerjaan menjadi terasa ringanYang termasuk manfaat sikap disiplin adalah
 - 1-2-3
 - 2-3-4-
 - 2-3-5
 - 3-4-5
- Tumbuhan yang tidak dapat membuat makanannya sendiri disebut juga tumbuhan
 - Autotrof
 - heterotrof
 - xerofit
 - hidrofit
- “Pada dasarnya, manusia adalah makhluk sosial. Manusia membutuhkan orang lain untuk melengkapi kebutuhan pribadinya. Oleh sebab itu, manusia harus mengutamakan keperluan sosial dibandingkan dengan keperluan pribadinya.”

Kesimpulan dari bacaan di atas adalah

 - Manusia dilahirkan sebagai makhluk sosial
 - Manusia adalah makhluk pemalas
 - manusia tidak bisa hidup sendiri
 - manusia selalu bergantung dengan orang lain
- 

Kesimpulan yang sesuai dengan gambar di samping adalah


 - Manusia membutuhkan bantuan orang lain untuk menyelesaikan pekerjaannya
 - Kepentingan orang lain lebih utama dibandingkan kepentingan pribadi
 - Menyuruh orang lain menyelesaikan pekerjaan kita adalah hal biasa
 - Semua orang membutuhkan tempat tinggal
- Ia mempunyai segalanya. ... selalu merasa kekurangan.*

Kata penghubung yang tepat untuk kalimat tersebut adalah

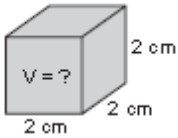
 - Dan
 - bahkan
 - tetapi
 - serta
- “Maaf, lain kali kalau buang sampah jangan di selokan, buanglah di tempat sampah.”

Kritikan di atas tentang

 - Minta maaf
 - Besok jangan membuang sampah
 - buang sampah pada tempatnya
 - larangan membuang sampah di selokan
- Cara menghitung luas permukaan balok dengan menggunakan rumus
 - $L = s \times s$
 - $L = p \times l$
 - $L = p \times l \times t$
 - $L = 2(pl + pt + lt)$
- Luas permukaan balok yang memiliki panjang 6 cm, lebar 4 cm dan tinggi 5 cm adalah
 - 84 cm^2
 - 120 cm^2
 - 148 cm^2
 - 240 cm^2
- Volume balok di samping adalah



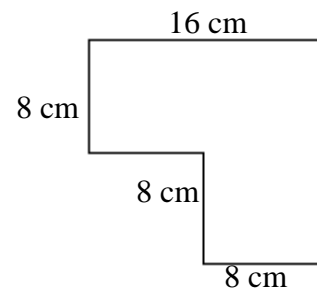
14.



- a. 32 kubus satuan
 b. 64 kubus satuan
 c. 96 kubus satuan
 d. 136 kubus satuan
- Volume kubus disamping adalah
- a. 6 cm^3
 b. 8 cm^3
 c. 24 cm^3
 d. 42 cm^3

15. Luas gambar disamping adalah

- a. 64 cm^3
 b. 128 cm^3
 c. 192 cm^3
 d. 320 cm^3



16. Pada bagian bunga terdapat

- a. Klorofil
 b. Cadangan makanan
 c. alat kelamin jantan dan betina
 d. zat-zat hara dan mineral

17. Berikut adalah proses yang terjadi pada pernapasan dada Inspirasi

- a. Otot antar tulang rusuk merenggang
 b. Tulang rusuk kembali seperti keadaan semula
 c. Rongga dada membesar sehingga tekanan udara menurun
 d. Terjadi pertukaran gas oksigen dan karbondioksida di alveolus

18. Katak dewasa bernapas dengan

- a. Insang luar
 b. insang dalam
 c. paru-paru
 d. permukaan kulit

19. Sinusitis merupakan penyakit pada organ pernapasan manusia yang menyerang bagian

- a. Rongga hidung
 b. trakea
 c. paru-paru
 d. diafragma

20. Komponen berikut yang tidak diperlukan dalam proses fotosintesis adalah

- a. Sinar matahari
 b. zat hijau daun
 c. glukosa
 d. karbon dioksida

21. Industri makanan dan minuman termasuk dalam jenis

- a. Aneka industri
 b. Industri kimia dasar
 c. industri kecil
 d. industri mesin dan logam dasar

22. Yang tidak termasuk sikap/perilaku memperhatikan keselarasan lingkungan dalam kegiatan industri adalah

- a. Menggunakan produk ramah lingkungan
 b. Mengurangi produksi sampah
 c. menggunakan bahan bakar tanpa batas
 d. mendaur ulang sampah

23. Bentang alam wilayah Kapanjen adalah

- a. Laut
 b. pantai
 c. dataran rendah
 d. dataran tinggi

24. Pak Andi seorang perajin kayu. Pak Andi mempunyai 21 orang karyawan. Usaha Pak Andi termasuk industri

- a. Rumah tangga
 b. Kecil
 c. Sedang
 d. Besar

25. Mata pencaharian bukan penduduk daerah pantai, yaitu petani

- a. Rumput laut
 b. garam
 c. perkebunan
 d. kelapa

26. Yang bukan termasuk dari kelompok hewan yang biasa dipelihara di rumah, yaitu

- a. Mamalia
 b. burung
 c. langka
 d. ikan hias

27. Salah satu kerajinan khas yang berasal dari daerah Bandung

- a. Batik
 b. Ukiran
 c. Angklung
 d. Rebana

28. Penamaan Ketupat dalam bahasa Banjar adalah

- a. Tipat
 b. katupat
 c. tupat
 d. kupat

29. Hewan peliharaan di samping sebaiknya diberi makan




- a. Ikan
 b. Daging
 c. Biji-bijian
 d. Pisang

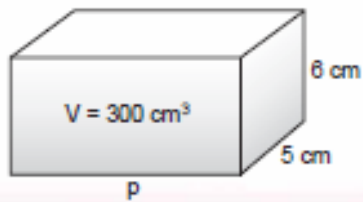
30. Gambar yang berfungsi untuk menjelaskan dan memperindah suatu tulisan disebut gambar
a. Ilustrasi b. hiasan c. komik d. penjelas

31. Sebutkan 5 sikap yang harus dimiliki oleh seorang siswa!

32. Deskripsikan nama bagian-bagian tumbuhan di samping beserta fungsinya!



33. Tentukan panjang balok berikut!



$$V = p \times l \times t$$
$$p = \frac{V}{l \times t} = \frac{300}{\dots \times \dots}$$
$$= \frac{300}{\dots} = \dots \text{ cm}$$

Jadi, panjang balok cm.

34. Jelaskan manfaat terjadinya fotosintesis!

35. Berikan 2 alasan mengapa kegiatan industri harus memperhatikan keselarasan alam?

36. Sebutkan 3 kerajinan khas beserta asal daerahnya!

