

Nama : _____

UH TEMA 8 SUBTEMA 2

1. Kerukunan yang terjadi pada gambar di samping adalah



- a. Berteman dengan suku tertentu
- b. Saling menghormati tanpa membedakan suku
- c. Acuh tak acuh terhadap suku teman
- d. Bersikap pasif kepada sesama

2. Kita tidak dapat hidup sendiri. Kita membutuhkan orang lain. Oleh karena itu, kita harus

- a. Menjaga kerukunan dengan cara saling menolong
- b. Hidup rukun hanya dengan teman yang kaya
- c. Berteman dengan anak yang pandai
- d. Selalu memberikan barangan yang kita miliki

3. Makna Bhinneka Tunggal Ika adalah

- a. Meskipun berbeda-beda, kita tetap satu bangsa
- b. Meskipun berbeda-beda, kita berjuang bersama
- c. meskipun berbeda-beda, kita tetap sama
- d. meskipun berbeda-beda, kita tetap satu jua

4. Menolong teman harus dilakukakn secara ikhlas agar

- a. Mendapat pujian
- b. Hubungan baik antarteman terjaga
- c. disukai orang tua dan guru
- d. diberi hadiah

5. Hubungan antarteman akan harmonis apabila

- a. Mempunyai kesamaan pendapat
- b. Memihak kepada yang menguntungkan
- c. latar belakang budaya sama
- d. saling menguntungkan kedua pihak

6. Langkah pertama yang dilakukan dalam membuat ringkasan, yaitu

- a. Menuliskan ide pokok tiap paragraf
- b. Membaca secara keseluruhan
- c. menentukan ide pokok tiap paragraf
- d. membaca judul teks bacaan

7. Isi syair tersebut, yaitu seorang anak harus

Wahai Ananda dengarlah pesan.
Pakai olehmu sifat anak jantan.
Bertanggung jawab dalam perbuatan.
Beban dipikul pantang diletakkan.

- a. Kuat menanggung beban derita
- b. Berkata jujur agar tidak dibebani masalah
- c. Berani bertanggung jawab dalam setiap perbuatan
- d. Selalu menghormati orang yang telah bertanggung jawab

8. Di Indonesia, terdapat sebuah ekosistem berupa hutan mangrove. Hutan mangrove memiliki fungsi dan manfaat yang sangat penting bagi ekosistem air dan alam disekitarnya. Fungsinya antara lain sebagai penahan abrasi pantai, instrusi (peresapan) air laut, menurunkan kandungan gas karbon dioksida di udara, dan bahan-bahan pencemar di peraoran rawa pantai.

Pertanyaan yang sesuai dengan jawaban yang ada pada teks di atas adalah

- a. Apa fungsi hutan mangrove?
- b. Apa yang dimaksud hutan mangrove?
- c. Mengapa hutan mangrove perlu dijaga ekosistemnya?
- d. Bagaimana kondisi hutan mangrove?


9. Yang dimaksud dengan cerita rakyat adalah

- a. Cerita imajinasi yang tidak terbukti kebenarannya
- b. Cerita berasal dari daerah yang menceritakan kisah para binatang
- c. Cerita yang berkembang di suatu daerah tertentu
- d. Cerita nyata yang benar-benar terjadi

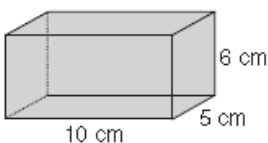
10. Tulisan yang mengungkapkan pikiran seorang pengarang dengan menggunakan bahasa sendiri disebut

- a. Rangkuman
- b. ringkasan
- c. karangan
- d. narasi

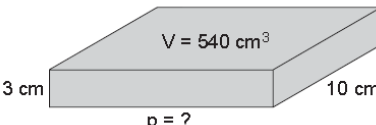
11. Hitunglah volume tumpukan balok disamping!



12. $V = p \times l \times t$
= X X

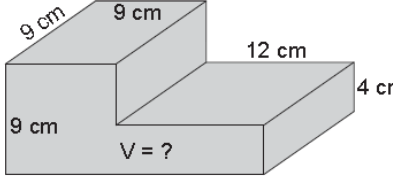


13. $= \dots\dots$



$V = p \times l \times t$
 $\dots\dots = p \times \dots\dots \times \dots\dots$
 $\dots\dots = \dots\dots$
 $\dots\dots = \dots\dots$

14.

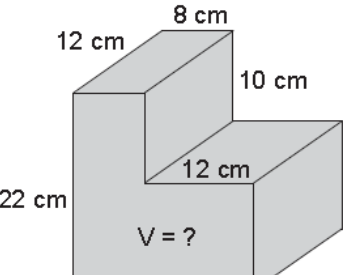


$V I = p \times l \times t$
 $= \dots\dots \times \dots\dots \times \dots\dots$
 $= \dots\dots$

$V II = p \times l \times t$
 $= \dots\dots \times \dots\dots \times \dots\dots$
 $= \dots\dots$

$V = V I + V II = \dots\dots + \dots\dots$
 $= \dots\dots$

15.



$V I = p \times l \times t$
 $= \dots\dots \times \dots\dots \times \dots\dots$
 $= \dots\dots$

$V II = p \times l \times t$
 $= \dots\dots \times \dots\dots \times \dots\dots$
 $= \dots\dots$

$V = V I + V II = \dots\dots + \dots\dots$
 $= \dots\dots$

16. Simbiosis komensalisme ditunjukkan pada gambar



17. Jika banyak ular pada ekosistem sawah di buru oleh manusia, akan terjadi
- a. Jumlah tikus bertambah
 - b. Ekosistem sawah tetap stabil
 - c. tanaman padi aman dari serangan ular
 - d. ular akan berpindah ke ekosistem lain
18. Persaingan antara cheetah dan singa dalam memperebutkan wilayah kekuasaan disebut persaingan
- a. Interspesifik
 - b. intraspesifik
 - c. spesifik
 - d. supraspesifik
19. Hewan karnivora merupakan konsumen tingkat
- a. Satu
 - b. dua
 - c. tiga
 - d. puncak
20. Berikut yang tidak menyebabkan perubahan jaring-jaring makanan, yaitu
- a. Gunung meletus
 - b. pemupukan tanah
 - c. kekeringan
 - d. banjir
21. Industri yang memperoleh bahan baku langsung dari alam disebut
- a. Aneka industri
 - b. industri alami
 - c. industri ekstraktif
 - d. industri nonekstraktif
22. Lembaga ekonomi yang mengutamakan asas kekeluargaan adalah
- a. CV
 - b. koperasi
 - c. PT
 - d. BUMN
23. Yang tidak termasuk fungsi dari lembaga ekonomi adalah
- a. Memberi pedoman untuk mendapatkan bahan pangan
 - b. Memberi informasi tentang proses jual beli
 - c. Memenuhi kebutuhan pokok untuk kelangsungan hidup
 - d. Memberi informasi tentang cara pengupahan
24. Berikut yang tidak termasuk keberagaman yang dimiliki Indonesia adalah
- a. Suku, adat, bahasa
 - b. Agama, suku, lagu daerah
 - c. tari tradisional, rumah adat, suku
 - d. pendidikan, pekerjaan, jabatan
25. Orang tua Siti berasal dari suku Batak. Suku Batak berasal dari daerah
- a. Sumatera Utara
 - b. Jawa Barat
 - c. Kalimantan Timur
 - d. NTB
26. Bahan berikut yang tidak biasa digunakan pada alat musik daerah adalah
- a. Kayu
 - b. bambu
 - c. plastik
 - d. kulit

27. Kemampuan penyanyi menyesuaikan isi dan jiwa lagu sesuai dengan kehendak penciptanya disebut
a. Ekspresi b. frasing c. intonasi d. artikulasi
28. Teknik pemenggalan lagu dan pengucapan kata disebut
a. Ekspresi b. frasing c. intonasi d. artikulasi
29. Lagu Si Patokaan berasal dari daerah
a. Minangkabau b. Manado c. Minahasa d. Maluku
30. Tari Remong berasal dari
a. Jawa Timur b. Jawa Tengah c. Jawa Barat d. DKI Jakarta

31. Berikan contoh dua usaha yang dapat kita lakukan untuk lebih mencintai budaya bangsa?

32. Lanjutkan syair berikut!

Aku Anak Indonesia

Aku sangat cinta dengan budayanya

33. Tuliskan contoh rantai makanan yang terjadi pada ekosistem kebun. Tentukan pula makhluk hidup yang berperan sebagai produsen, konsumen, dan pengurai!

34. Jelaskan perbedaan kegiatan produksi, distribusi, dan konsumsi!

35. Tuliskan tiga teknik vokal yang perlu diperhatikan dalam bernyanyi!

